






LEMBAR SOAL




Mata Pelajaran : IPS
Kelas : V (Lima)
Hari/Tanggal :
Nama Lengkap :

A. Pilihlah salah satu jawaban yang anda anggap benar dengan cara memberikan tanda silang (X) pada lebar jawab yang telah disediakan!

1. Kerajaan Hindu tertua di Indonesia adalah kerajaan
 - a. Tarumanegara
 - b. Singasari
 - c. Kutai
 - d. Aceh
 - e. Majapahit
2. Kerajaan Majapahit di Jawa Timur patih yang terkenal yaitu patih....
 - a. Joko Tingkir
 - b. Joko Kendil
 - c. Gajah Mada
 - d. Gajah Mungkur
 - e. Joko Tingkir
3. Candi peninggalan budaya budha terbesar adalah...
 - a. Candi Borobudur
 - b. Candi Prambanan
 - c. Candi Mendut
 - d. Candi Penataran
 - e. Prasasti
4. Pengaruh hindu masuk ke Indonesia pada abad ke...
 - a. 5 Masehi
 - b. 6 Masehi
 - c. 7 Masehi
 - d. 8 Masehi
 - e. 9 Masehi
5. Gambar atau lambang tertentu pada peta untuk mewakili objek tertentu disebut....
 - a. Legenda
 - b. Simbol
 - c. Judul peta
 - d. Globe
 - e. Atlas
6. Gambar dibawah ini menunjukkan simbol...
 - a. Gunung
 - b. Bandar udara
 - c. Jalan raya
 - d. Kota
 - e. Kabupaten
7. Kepulauan Indonesia dilalui oleh dua jalur pegunungan yaitu sirkum dan sirkum
 - a. Sirkum Himalaya dan sirkum Pasifik
 - b. Sirkum Mediterania dan sirkum Pasifik
 - c. Sirkum Mediteranika dan sirkum Himalaya
 - d. Sirkum Atlantik dan sirkum Pasifik
 - e. Sirkum Atlantik dan sirkum Mediterania
8. Berawal dari pegunungan andes di amerika selatan bersambung ke

- pegunungan Rocky di Amerika Utara termasuk pada sirkum
- Sirkum Pasifik
 - Sirkum Mediterania
 - Sirkum Himalaya
 - Sirkum Atlantik
 - Samudra Hindia
9. Gambar dibawah ini menunjukkan simbol...
- Jalan raya
 - Pegunungan
 - Sungai
 - Bandar udara
 - Kota
- 
10. Pulau Sulawesi termasuk pada relief Indonesia bagian...
- Barat
 - Tengah
 - Timur
 - Kiri
 - Kanan
11. Bagian dari laut yang menyempit dan masuk kewilayah daratan disebut....
- Teluk
 - Tanjung
 - Hutan
 - Selat
 - Pantai
12. Kenampakan lingkungan buatan manusia dibawah ini adalah...
- 
- Pelabuhan laut
 - Pelabuhan udara
 - Waduk
 - Bendungan
 - Kawasan industri
13. Garis melintang yang terletak ditengah-tengah bola bumi disebut....
- Garis katulistiwa
 - Garis weber
 - Garis lintang
 - Garis bujur
 - Garis bujur dan garis lintang
14. Burung cendrawasih adalah jenis fauna Australia yang dapat kita temui di...
- Papua
 - Kalimantan
 - Sumatra
 - Jawa
 - NTT
15. Daerah datar yang mempunyai ketinggian dari 200 meter diatas permukaan laut disebut...
- Dataran tinggi
 - Dataran rendah
 - Dataran
 - Pantai
 - Teluk
16. Gambar dibawah ini menunjukkan simbol...
- Gunung
 - Pantai
 - Danau
 - Bandar udara
 - Pelabuhan
- 
17. Garis bujur nol terdapat di kota...
- London
 - Amsterdam
 - Liverpool
 - Greenwich
 - Australia
18. Waktu Indonesia Barat (WIB) memiliki selisih waktu dari waktu Greenwich.
- Enam jam
 - Tujuh jam
 - Delapan jam

- d. Sembilan jam
e. Sepuluh jam
19. Kota di Indonesia yang dilalui garis khatulistiwa adalah...
- Jayapura
 - Jakarta
 - Pontianak
 - Manado
 - Jakarta
20. Pulau Jawa termasuk pada relief...
- Indonesia Barat
 - Indonesia Tengah
 - Indonesia Timur
 - Jakarta
 - Indonesia Timor
21. Waktu Indonesia Timur (WIT) daerahnya meliputi...
- Maluku dan Papua
 - Sulawesi, Maluku, dan Papua
 - Sulawesi dan Maluku
 - NTT, Maluku, Papua
 - Sumatra dan Sulawesi
22. Teluk adalah...
- Laut yang menjorok ke daratan
 - Daratan yang menjorok ke laut
 - Laut sempit diantara dua pulau
 - Genangan air yang dikelilingi daratan
 - Daratan yang dikelilingi genangan air
23. Gambar dibawah ini menunjukkan simbol...
- Bandar udara
 - Pantai
 - Gunung
 - Pelabuhan
 - Danau
- 
24. Waktu Indonesia Timur (WIT) memiliki selisih waktu ... dari waktu Greenwich.
- Enam jam
 - Tujuh jam
 - Delapan jam
 - Sembilan jam
 - Sepuluh jam
25. Kenampakan buatan dapat menyebabkan kerugian manusia, kecuali....
- Pabrik menyebabkan pencemaran udara
 - Bendungan menyebabkan air sulit diatur
 - Kapal menyebabkan pencemaran air
 - Bandara menyebabkan polusi suara
 - Kawasan industri menyebabkan pencemaran air
26. Apabila di kota Sumatra menunjukkan pukul 10.00, maka pada saat yang bersamaan di kota Jayapura menunjukkan pukul...
- 09.00
 - 10.00
 - 11.00
 - 12.00
 - 13.00
27. Berikut ini yang tidak termasuk kenampakan alam di Indonesia adalah...
- Hutan
 - Gunung
 - Danau
 - Bendungan
 - Pantai
28. Pergaulan sehari-hari yang dilandasi rasa ikhlas dan kerukunan antar warga dan antar suku merupakan sikap....
- Perdebatan
 - Persatuan
 - Perpecahan
 - Pertetangan
 - Rasis
29. Bhineka Tunggal Ika bagi negara Indonesia merupakan...

- a. Lambang negara
b. Dasar negara
c. Semboyan negara
d. Tujuan negara
e. Strategi negara
30. Suku batak terdapat pada pulau...
a. Jawa
b. Bali
c. Sumatra
d. Kalimantan
e. Sulawesi
31. Upacara pembakaran mayat merupakan budaya dari daerah...
a. Jawa
b. Sumatra
c. Sulawesi
d. NTT
e. Bali
32. Rumah adat dibawah ini dari provinsi...
a. Bali
b. Jawa Timur
c. Jawa Tengah
d. Jawa Barat
e. Papua
- 
33. Suku Madura termasuk pada pulau...
a. Jawa
b. Sumatra
c. Sulawesi
d. NTT
e. Bali
34. Sikap kita terhadap budaya asing yang masuk Indonesia adalah...
a. Menolak tegas
b. Membiarkan masuk
c. Kagum dan bangga
d. Asal menerima
e. Menerima dengan selektif
35. Gotong royong membangun balai pertemuan merupakan wujud nyata dari sikap...
- a. Membangun daerah
b. Tolong menolong
c. Persatuan dan kesatuan
d. Toleransi warga
e. Acuh tak acuh
36. Tarian di bawah ini berasal dari daerah...
a. Jawa
b. Surabaya
c. Jakarta
d. Aceh
e. Papua
- 
37. Pakaian adat dibawah ini berasal dari daerah...
a. Jawa barat
b. Jawa timur
c. Jawa tengah
d. Bali
e. Papua
- 
38. Suku Melayu terdapat pada pulau...
a. Sumatra
b. Jawa
c. Bali
d. Kalimantan
e. Sulawesi
39. Masyarakat Jawa menggunakan bahasa jawa. Hal ini merupakan keragaman budaya dilihat dari aspek...
a. Seni
b. Tradisi
c. Adat istiadat
d. Bahasa
e. Tari adat
40. Kesenian teater dari sunda, Jawa Barat adalah...
a. Ludruk dan reog
b. Wayang golek
c. Lenong
d. Wayang wong
e. Bioskop